


تلاشی در مسیر موفقیت



- دانلود گام به گام تمام دروس ✓
- دانلود آزمون های قلم چی و گاج + پاسخنامه ✓
- دانلود جزوه های آموزشی و شب امتحانی ✓
- دانلود نمونه سوالات امتحانی ✓
- مشاوره کنکور ✓
- فیلم های انگیزشی ✓

 www.ToranjBook.Net

 [ToranjBook_Net](https://t.me/ToranjBook_Net)

 [ToranjBook_Net](https://www.instagram.com/ToranjBook_Net)

آزمون ۲۸ اردیبهشت ۱۴۰۳ اختصاصی یازدهم تجربی

تعداد کل سؤال‌های قابل پاسخ‌گویی: ۹۰ سؤال

مدت پاسخ‌گویی به آزمون: ۱۲۰ دقیقه

نام درس	تعداد سؤال	شماره سؤال‌ها	زمان پاسخ‌گویی
زیست‌شناسی ۲	۲۰	۱-۲۰	۲۰ دقیقه
فیزیک ۲	۲۰	۲۱-۴۰	۳۰ دقیقه
شیمی ۲	۲۰	۴۱-۶۰	۲۰ دقیقه
ریاضی ۲	۲۰	۶۱-۸۰	۴۰ دقیقه
زمین	۱۰	۸۱-۹۰	۱۰ دقیقه
مجموع	۹۰	----	۱۲۰ دقیقه

مستولان درس، گزینش گران و ویراستاران

نام درس	گزینش گر	مستول درس	گروه ویراستاری	گروه مستندسازی
زیست	رضا نوری	امیرحسین بهروزی‌فرد	حمید راهواره، مریم سیاهی، محمدحسن کریمی‌فرد، علیرضا دبانی، امیرمحسن اسدی	مهسا سادات هاشمی
فیزیک	مهدی شریفی	مهدی شریفی	بابک اسلامی، سعید محبی، کوروش حیاتی	حسام نادری
شیمی	ایمان حسین‌نژاد	ایمان حسین‌نژاد	امیررضا حکمت‌نیا، احسان پنجه‌شاهی، مهدی سهامی‌سلطانی	سمیه اسکندری
ریاضی	محمد بحیرایی	محمد بحیرایی	عادل حسینی، رضا سیدنجفی، علی مرشد، مهدی بحرکاظمی	سمیه اسکندری
زمین	بهزاد سلطانی	علیرضا خورشیدی	عرفان هاشمی	محیا عباسی

گروه فنی و تولید

مدیر گروه	امیررضا حکمت‌نیا
مستول دفترچه	امیرمحسن اسدی
مستندسازی و مطابقت با مصوبات	مدیر گروه: محیا اصغری مستول دفترچه: سیمه اسکندری
حروف نگاری و صفحه‌آرایی	سیده صدیقه میرغیائی
ناظر چاپ	حمید محمدی

برای دریافت اخبار گروه تجربی و مطالب درسی به آدرس اینستاگرامی @kanoon_11t مراجعه کنید.

گروه آزمون

بنیاد علمی آموزشی قلمچی (وقف عام)

۵- چند مورد، عبارت زیر را به درستی می‌کند؟

تکمیل

«هر غده‌ای در دستگاه تولیدمثلی مردان...که.»

برآمدگی اول میزراه قرار دارد. الف) بیش از یک عدد در بدن وجود دارد، بالاتر از

ج) به مجموع ترشحات آن‌ها که توسط میزانای از بدن خارج می‌شود، مایع منی گفته می‌شود، دارای سلول‌هایی با فضای بین‌سلولی اندک است.

د) بلافاصله بین مجاری اسپرم‌بر در قسمت پشتی مثانه قرار دارد، ظاهراً مشابه بر خاک (اپیدیدیم) دارد.

۱) ۳) ۲) ۲) ۱) ۳)

۶- کدام گزینه عبارت زیر را به‌طور صحیح تکمیل می‌کنید؟

«به‌طور معمول در انسان پس از لقاح و تشکیل تخم؛ قبل از جنین.»

می‌شود. ۱) تشکیل پرده‌های محافظت‌کننده - تمایز جفت آغاز

۲) تشکیل زوائد انگشتی در یکی از می‌شود. پرده‌های محافظت‌کننده - توده درونی به لایه زاینده تبدیل

۳) شروع ترشح آنزیم‌های لایه خارجی بلاستوسیست - توده می‌شود. یاخته‌ای ویژه تشکیل

می‌شوند. ۴) ترشح هورمون HCG - جوانه‌های دست و پا ظاهر

۷- کدام مورد برای تکمیل عبارت زیر نامناسب می‌باشد؟

«نوعی ترکیب شیمیایی در به‌طور...حتم.»

۱) گرده‌افشان نقش دارد. گل‌های آکاسیا - در افزایش شانس بقای زنبورهای

۲) برگ تنباکو - می‌تواند با گذر از سد خونی - مغزی بر یاخته‌های مغز انسان اثرگذار باشد.

۳) گیاهان زخمی - با به دام انداختن حشرات منجر به ایجاد سنگواره می‌شود.

۴) برگ‌های تنباکو - می‌تواند سبب کاهش شانس بقای برخی از حشرات آفت شود.

۸- اگر گیاهی نهان‌دانه داشته باشد، می‌توان گفت...نوماً.

۱) یاخته‌هایی تمایز یافته از روپوست خود که توانایی ایجاد پیام دارند - در مناطقی که خاک فاقد نیتروژن است می‌زیستند.

۲) رشد اندامی زمینی در خلاف جهت گرانش زمین - در یاخته‌های ترش‌حی روپوست شاخه قطور آن، فعالیت شبکه آندوپلاسمی بالا است.

۳) برای یاخته‌هایی با عدد کروموزومی گل‌دهی نیاز به یک دوره کوتاه سرما - برای رویش بذر خود توسط متفاوت از برگ‌های رویانی، هورمون جیبرلین ترشح می‌کند.

۴) ساختار تخصص یافته برای تولیدمثل جنسی - دارای رنگ درخشان، بوی قوی و یا شهد فراوان نیست.

۹- وجه شباهت با در این است که هر...دو.

۱) یاخته حاصل میوز دو در تخمک گیاهان - یاخته حاصل میوز دو در کیسه رویانی - دارای یاخته‌های مجاور خود هستند. اندازه مشابهی نسبت به

گرده رسیده - بزرگترین یاخته درون کیسه رویانی - توانایی انجام لقاح را دارند. ۲) یاخته کوچکتر درون

۳) گیاه چندساله غیر چوبی - گیاه واجد ذخایر غلات در غده خود - واجد ساقه تخصص یافته‌ای هستند که به‌طور افقی نسبت به سطح خاک رشد می‌کنند.

۴) لپه‌های گیاه لوبیا - پوشش تخمک گل آلبالو - می‌توانند با استفاده از نور مواد آلی بسازند.

۱۰- چند مورد در ارتباط با تقسیم سیتوپلاسم در پی میتوز یاخته‌های گیاهی به درستی بیان شده است؟

الف) در مرحله‌ای از تقسیم هسته آغاز می‌شود که تعداد کروموزوم‌های یاخته در ابتدا و انتهای آن با همدیگر برابر نیست.

ب) تشکیل صفحه یاخته‌ای با غشای کامل بعد از تشکیل پوشش اطراف ماده وراثتی صورت می‌گیرد.

ج) در پی اتصال ریزکیسه‌های موجود در سیتوپلاسم به همدیگر، نوعی فرورفتگی کوچک در دیواره یاخته مادر ایجاد می‌شود.

د) به‌دنبال تشکیل دیواره جدید، ساختارهایی مانند لان و پلاسمودسم پایه‌گذاری می‌شوند.

۱) ۱) ۲) ۲) ۳) ۳) ۴) ۴)

۱۱- با توجه به فعالیت کتاب درسی که دوره جنسی تخمدانها را به دو قسمت انبانکی و جسم می‌کند، کدام گزینه عبارت زیر را به‌طور صحیح تقسیم‌بندی

زردی

تکمیل می‌کند؟

«در مرحله‌ای که به‌طور قطع.»

- ۱) سرعت رشد دیواره رحم به حداکثر خود می‌رسد - امکان کاهش ضخامت دیواره آن بدون قاعدگی وجود دارد.
- ۲) حمایت یاخته‌های انبانکی از یاخته‌های مسیر گامت‌زایی مشاهده می‌شود - انشعابات سرخرگی واجد ماریپیچی‌های فراوانی در لایه ضخامت دیواره رحم به حداکثر خود می‌رسد - امکان مشاهده یاخته‌های پلوئید جنس مونث همانند یاخته فاقد دنا در واژن وجود دارد.
- ۳) می‌رسد. ۴) در ابتدای آن نوعی شکاف در دیواره تخمدان وجود دارد - طی این مرحله، اندازه جسم زرد تحت تأثیر هیپوفیز به حداکثر خود می‌رسد. ۱۲- در، افزایش نسبت مقدار به نوعی تنظیم‌کننده رشدی که می‌تولند.

- ۱) جوانه جانبی - اتیلن - با کاهش مدت زمان چرخه یاخته‌ای منجر به تسریع ترمیم بافتی می‌شود - رشد آن را تحریک کند.
- ۲) برگ - اکسین - مقدار ترشح آن، همزمان با آسیب‌دیدگی بافت‌های گیاهی افزایش می‌یابد - فرآیند ریزش برگ را شروع کند.
- ۳) محیط کشت - سیتوکینین - کشف آن سرآغازی برای شناسایی سایر هورمون‌های گیاهی شد - ساقه‌زایی کال را تحریک کند.
- ۴) جوانه رأسی - اکسین - افشانه کردن آن بر روی ریزوم، موجب شادابی این اندام گیاهی می‌شود - رشد جوانه جانبی را مانع شود.

۱۳- کدام عبارت، در ارتباط با طول عمر گیاهان، قطعاً صحیح است؟

- ۱) هر گیاه با دوره زایشی بیش از یک‌بار، بیشتر از هر گیاه با تنها یک‌بار دوره زایشی عمر می‌کند.
- ۲) هر گیاه با چند دوره رویشی و زایشی، واجد دیواره پسمین بوده و از گیاهان درختی است.
- ۳) هر گیاه با یک دوره زایشی، با گذراندن یک دوره رویشی از بین خواهد رفت.
- ۴) هر گیاه با بیش از یک دوره زایشی، سال‌ها به رشد رویشی خود ادامه می‌دهد.

می‌دهد. ۱۴- «به منظور وقوع لقاح بین یک اسپرم و اووسیت، ثانویه. قبل از رخ

- ۱) پاره شدن تارکتن‌های زامه در حین عبور زامه از لایه خارجی اطراف اووسیت - تجزیه لایه شفاف اطراف اووسیت
- ۲) ادغام هسته‌های هاپلوئید با یکدیگر - تبدیل لایه ژله‌ای اطراف اووسیت به جدار لقاحی
- ۳) ادغام غشای زامه با غشای اووسیت ثانویه - تجزیه پروتئین‌های اتصالی سانترومر کروموزوم‌های اووسیت ثانویه
- ۴) اگر اگزوسیتوز محتویات ریزکنندری‌های اسپرم به درون اووسیت ثانویه. کیسه‌های نزدیک غشای اووسیت ثانویه - ورود میتو

۱۵- از اثرات دیگر هورمونی که ضمن داشتن خاصیت اسیدی رویش دانه‌ها می‌شود. اشاره کرد.

- ۱) مانع - نمی‌توان به داشتن نقش در تولید یاخته‌ها در بدن انسان ماده مؤثر در برهم زدن تعادل بین تقسیم و مرگ بعضی
- ۲) موجب تحریک - نمی‌توان به رشد میوه در پی جلوگیری از لقاح یکی از گامت‌های حاصل از تقسیم یاخته زایشی و یاخته تخم‌زا در تخمدان پرتقال
- ۳) مانع - می‌توان به کاهش فشار پروتوپلاست به دیواره پستی و شکمی یاخته‌های موجود در برگ مؤثر در خروج آب ناشی از فشار ریشه‌ای به حالت مایع
- ۴) موجب تحریک - می‌توان به تحریک افزایش مقدار کاروتنوئیدهای ذخیره شده در یاخته‌های میوه گوجه‌فرنگی به دنبال افزایش تجزیه سبزینه در آن‌ها

۱۶- در رابطه با تکثیر گیاهان با بخش‌های رویشی، کدام گزینه صحیح است؟

- ۱) در پیوند زدن، پیوندک (جوانه یا شاخه) را در مجاور کامبیوم چوب آبکش گیاه پایه قرار می‌دهند.
- ۲) در هر نوع قلمه زدن با قرار دادن قطعه‌هایی از ساقه در خاک، گیاه جدیدی ایجاد می‌کنند.
- ۳) در هر گیاهی که ساقه زیرزمینی آن دارای جوانه می‌باشد، برای تکثیر ساقه را به قطعات جوانه‌دار تقسیم می‌کنند.
- ۴) در هر روش که از محل گره، ریشه و ساقه برگ‌دار ایجاد می‌شود، باید بخشی از ساقه گره‌دار را با خاک پوشاند.

۱۷- با توجه به مطالب موجود در فصل ۸ زیست‌شناسی ۲ (تولیدمثل نهان‌دانگان)، کدام گزینه صحیح است؟

متفاوت‌اند. «به‌طور معمول از نظر با یکدیگر مشابه و از نظر با یکدیگر

(الف) میوه خیار و میوه فلفل دلمه‌ای - ایجاد شدن در نتیجه رشد زایشی گیاه و داشتن چندین دانه - داشتن چندین برچه کاملاً جدا شده از یکدیگر

(ب) گیاه سیب‌زمینی و نرگس - اتصال تعدادی از یاخته‌های ریشه به ساقه تخصص‌یافته - اتصال ساقه تخصص‌یافته به نوعی اندام فتوسنتزکننده هوایی

(ج) گیاه زنبق و توت‌فرنگی - ایجاد پایه جدید در محل‌هایی از ساقه به موازات رویش افقی آن - توانایی انجام فتوسنتز در ساقه تخصص‌یافته

تنظیم‌کننده رشد جهت تحریک تولید ریشه (د) روش‌های قلمه زدن و پیوند زدن - دریافت محتوای وراثتی گیاه حاصل از گیاه والد - استفاده از نوعی

(۱) مورد (الف) برخلاف مورد (ج) درست است. ۲. مورد (ب) برخلاف مورد (الف) نادرست است.

(۳) مورد (ج) همانند مورد (د) درست است. (۴) مورد (د) همانند مورد (ب) نادرست است.

۱۸- کدام گزینه عبارت زیر را به درستی تکمیل می‌کند؟

«هر تنظیم‌کننده رشد گیاهی که به‌طور»

(۱) ترشح آنزیم‌های تجزیه‌کننده را افزایش می‌دهد - سبب تجزیه نوعی ترکیب پلی‌ساکاریدی غیر قابل استفاده برای اغلب جانوران می‌شود.

(۲) خاصیت اسیدی دارد - با تغییر اندازه یاخته‌های فتوسنتزکننده روپوستی، سرعت حرکت شیره خام را در آوندهای چوبی کاهش می‌دهد.

(۳) در مهار رشد جوانه‌های جانبی نقش دارد - در تمایز یاخته‌های توده کال به اندام گیاهی دارای تارهای کشنده نقش مهمی ایفا می‌کند.

(۴) بر میوه‌ها تأثیر می‌گذارد - باعث حجیم شدن یاخته‌های دیواره داخلی‌ترین حلقه گل در برخی گیاهان نهان‌دانه می‌شود.

۱۹- چند مورد عبارت زیر را به‌طور مناسبی تکمیل نمی‌کند؟

«با توجه به کتاب درسی (در) نوعی جانور که به‌طور»

ژله‌ای است - این دیواره علاوه بر حفاظت در تغذیه جنین هم مؤثر است. (الف) تخمک واجد دیواره

(ب) سازوکارهایی برای حفاظت از تخم وجود دارد - دیواره بین دو بطن به‌طور کامل شکل گرفته است.

(ج) لقاح درون بدن آن صورت می‌گیرد - گامت‌های فاقد توانایی حرکت تولید می‌کند.

(د) امکان تشکیل زاده جدید به تنهایی را دارد - واجد انواع ساختارهای تولیدمثلی می‌باشد.

۱) ۱) ۲۰-

۲) ۲)

۳) ۳)

۴) ۴)

تلاشی در مسیر موفقیت
کدام گزینه درست است؟

«درون بدن زنی سالم و بالغ هر اووسیتی...که.»

یاخته‌های واجد ارتباط سیتوپلاسمی قرار دارد. (۱) درون لوله فالوپ یافت می‌شود، برخلاف اسپرماتوسیت اولیه در بدن مردان در مجاورت

(۲) در ایجاد نمی‌توانند مستقیماً یاخته‌های دارای قابلیت حرکت تولید کنند. یاخته‌های هاپلوئید نقش دارد، برخلاف اسپرماتوسیت ثانویه در بدن مردان

(۳) توانایی جدا کردن کروموزوم‌های همتا دارد، در پی اثرگذاری هورمون LH تقسیم خود را کامل می‌کند.

(۴) توانایی فرارگیری در بخش‌های مختلف دستگاه تولیدمثلی را دارد، در پی اثرگذاری هورمون LH از تخمدان خارج می‌شود.

فیزیک (۲)

۳۰ دقیقه

فیزیک (۲)

جریان الکتریکی
(توان در مدارهای الکتریکی و ترکیب و مقاومت‌ها)
مغناطیس و القای
الکترومغناطیسی
(کل فصل)
(صفحه‌های ۵۳ تا ۱۰۴)

هدف‌گذاری قبل از شروع هر درس در دفترچه سؤال

لطفاً قبل از شروع پاسخ‌گویی به سؤال‌های درس فیزیک (۲)، هدف‌گذاری چند از ۱۰ خود را بنویسید:

از هر ۱۰ سؤال به چند سؤال می‌توانید پاسخ صحیح بدهید؟

عملکرد شما در آزمون قبل چند از ۱۰ بوده است؟

هدف‌گذاری شما برای آزمون امروز چیست؟

چند از ۱۰ آزمون قبل	هدف‌گذاری چند از ۱۰ برای آزمون امروز

۲۱- با سیمی به طول L قاب مربعی شکلی می‌سازیم، سطح قاب مربعی شکل، عمود بر خط‌های یک میدان مغناطیسی قرار دارد و شار گذرنده از آن

برابر با $5Wb$ است. اگر با همین سیم یک پیچه با دو حلقه بسازیم و سطح آن را عمود بر خط‌های همان میدان مغناطیسی قرار دهیم، شار

مغناطیسی گذرنده از هر حلقه آن چند وبر می‌شود؟ ($\pi = 3$)

$\frac{20}{3}$ (۲)

$\frac{10}{3}$ (۱)

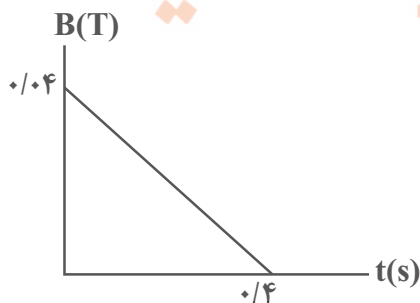
$\frac{5}{3}$ (۴)

۵ (۳)

۲۲- سطح حلقه‌ای به شعاع $9cm$ و مقاومت 81Ω ، عمود بر خط‌های میدان مغناطیسی‌ای که اندازه آن مطابق شکل زیر تغییر می‌کند، قرار دارد.

تلاشی در مسیر موفقیت

جریان متوسط القایی حلقه در بازه زمانی $t = 0$ تا $t = 0/4s$ چند میکروآمپر است؟ ($\pi \simeq 3$)



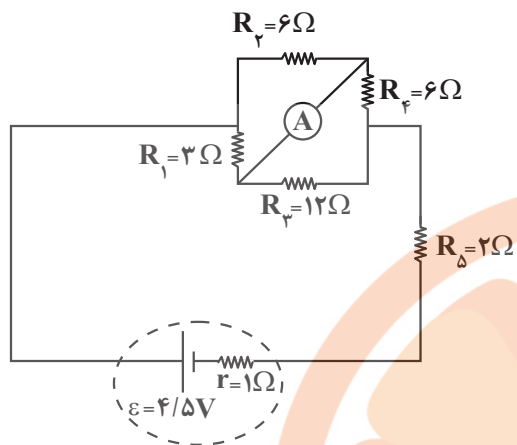
۳۰ (۱)

$2/43$ (۲)

$0/03$ (۳)

$0/0243$ (۴)

۲۳- در مدار شکل زیر، آمپرسنج آرمانی A چه عددی را برحسب آمپر نشان می‌دهد؟



(۱) $\frac{1}{6}$

(۲) $\frac{1}{3}$

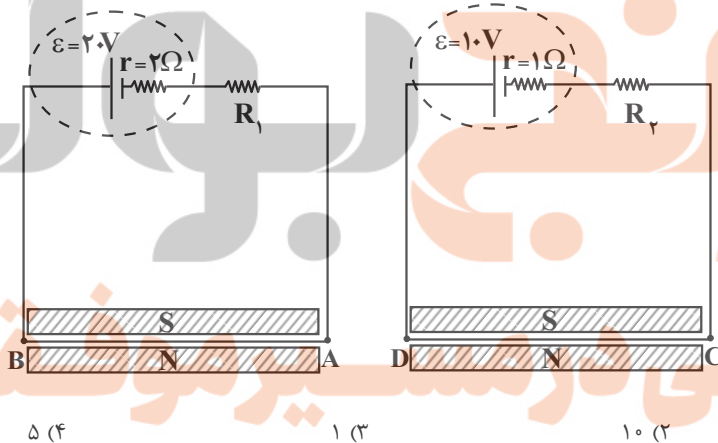
(۳) $\frac{1}{2}$

(۴) $\frac{1}{4}$

۲۴- در شکل زیر دو سیم AB و CD در میدان مغناطیسی یکسان قرار دارند و اندازه نیروی مغناطیسی وارد بر سیم AB، ۴ برابر اندازه نیروی

مغناطیسی وارد بر سیم CD است. اگر نسبت $\frac{R_1}{R_2} = \frac{1}{5}$ باشد، مقدار R_2 کدام است؟ (سیم‌های AB و CD دارای طول برابر و بدون مقاومت

الکتریکی فرض شوند و اندازه میدان مغناطیسی در دو شکل با هم برابر است.)



۵ (۴)

۱ (۳)

۱۰ (۲)

۲ (۱)

۲۵- سیمی روکش‌دار و نازک به طول ۲۰ متر را به‌طور منظم و بدون فاصله از هم در سرتاسر طول یک استوانه پلاستیکی و توخالی با مساحت جانبی

۵۰ سانتی‌متر مربع می‌پیچیم. اگر جریان عبوری از سیمولوله ۲۰۰ میلی‌آمپر باشد، اندازه میدان مغناطیسی یکنواخت درون سیمولوله چند میلی

تسلا می‌شود؟ ($\mu_0 = 12/5 \times 10^{-7} \frac{T.m}{A}$)

۲ (۴)

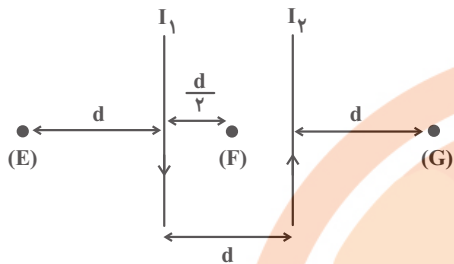
۱ (۳)

2×10^{-3} (۲)

10^{-3} (۱)

۲۶- شکل زیر، دو سیم بسیار بلند موازی حامل جریان‌های I_1 و I_2 را نشان می‌دهد. اگر $I_1 = I_2$ باشد و بزرگی میدان مغناطیسی برآیند حاصل از دو سیم در

نقاط (E)، (F) و (G) (به ترتیب B_E ، B_F و B_G فرض شوند، در این صورت کدام گزینه درست است؟



(۱) B_F برون‌سو، B_E و B_G هر دو درون‌سو

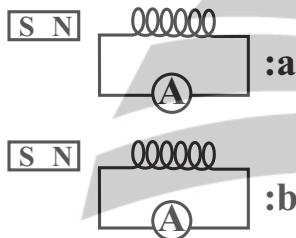
(۲) B_F درون‌سو، B_E و B_G هر دو برون‌سو

(۳) B_G و B_F هر دو برون‌سو، B_E درون‌سو

(۴) B_E و B_F هر دو برون‌سو، B_G درون‌سو

۲۷- مطابق شکل یک آهنربا را در دو حالت a و b درون سیملوله‌ها به‌صورت رفت و برگشتی حرکت می‌دهیم. اگر آهنربای حالت a را با سرعت

بیشتری نسبت به حالت b حرکت دهیم، کدام گزینه ثابت می‌ماند؟ (سیملوله‌ها دارای تعداد دور و جنس یکسان هستند.)



(۱) نیروی محرکه القایی

(۲) جریان القایی

(۳) بار القایی

(۴) هر سه تغییر می‌کند.

۲۸- سطح حلقه‌ای رسانا به شعاع 10 سانتی‌متر و قطر مقطع 2 میلی‌متر بر خطوط میدان مغناطیسی که اندازه آن با زمان تغییر می‌کند، عمود است.

اگر جریان القایی متوسط در حلقه $3/0$ آمپر باشد، آهنگ تغییر اندازه میدان مغناطیسی در حلقه چند میلی‌تسلا بر ثانیه است؟

$$(\pi = 3, \rho = 1/7 \times 10^{-8} \Omega \cdot m)$$

تلاشی در مسیر موفقیت

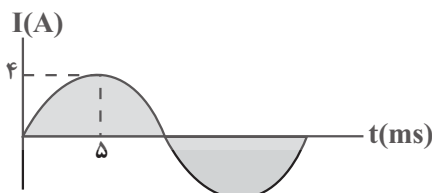
۶۸ (۴)

۳۴ (۳)

۳/۴ (۲)

۰/۳۴ (۱)

۲۹- نمودار جریان حاصل از یک مولد جریان متناوب مطابق شکل زیر است. جریان القایی در این مولد در لحظه $t_1 = \frac{5}{3} \text{ ms}$ چند برابر لحظه $t_2 = 35 \text{ ms}$ است؟



$-\frac{1}{2}$ (۲)

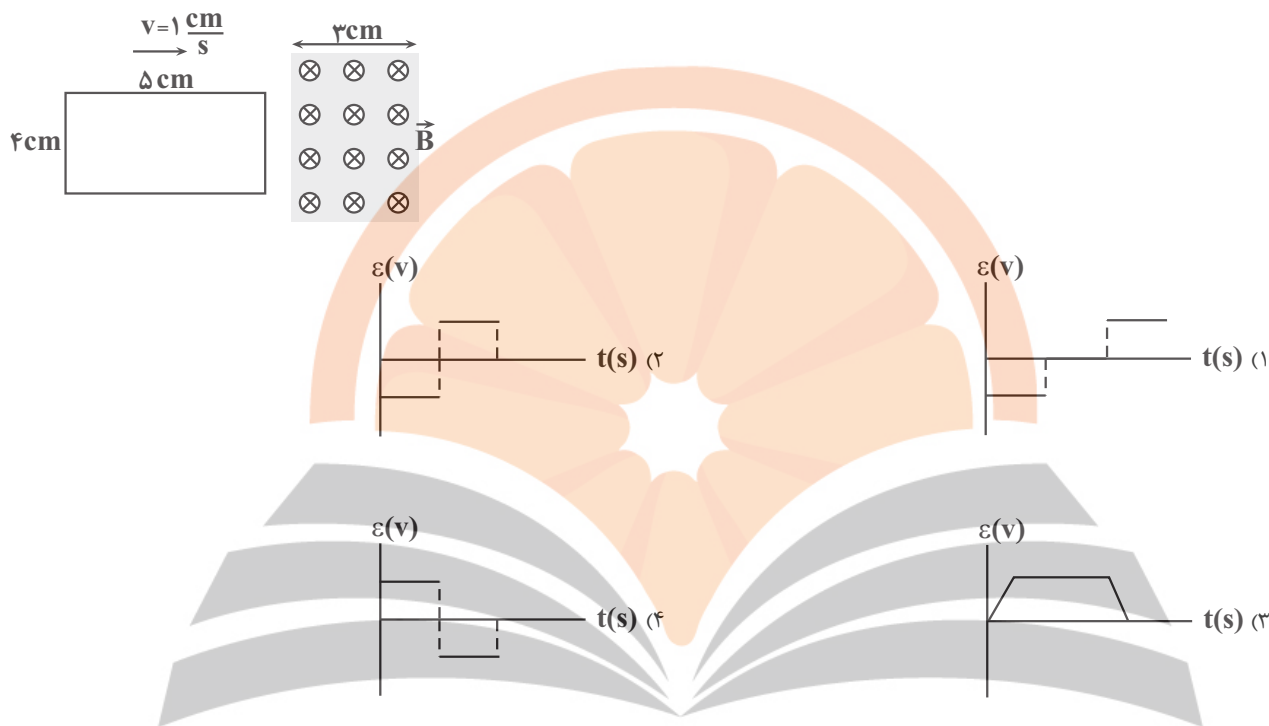
$\frac{1}{2}$ (۱)

$-\frac{\sqrt{3}}{2}$ (۴)

$\frac{\sqrt{3}}{2}$ (۳)

۳۰- مطابق شکل زیر یک قاب مستطیلی شکل به ابعاد $۴\text{cm} \times ۵\text{cm}$ با تندی ثابت $۱ \frac{\text{cm}}{\text{s}}$ وارد میدان مغناطیسی ثابتی شده و از طرف دیگر آن

خارج می‌شود. کدامیک از نمودارهای زیر به صورت کیفی بیانگر تغییرات نیروی محرکه القایی در قاب است؟



۳۱- در انتقال توان الکتریکی، از مبدا در کنار نیروگاه، و در نزدیکی محل مصرف استفاده می‌کنیم تا اتلاف توان در خط‌های

انتقال کم شود.

(۱) افزایش - کاهش

(۲) افزایش - افزایش

(۳) کاهش - افزایش

(۴) کاهش - کاهش

۳۲- در شکل زیر، انرژی وارد القاگر آرمانی می‌شود و نیروی محرکه القایی باعث ایجاد جریانی به سمت راست در القاگر می‌شود. در این حالت می‌توان

نمایشی در مسیر موفقیت گفت جهت جریان الکتریکی در القاگر به سمت و اندازه آن در حال است.



(۱) چپ - کاهش

(۲) راست - کاهش

(۳) چپ - افزایش

(۴) راست - افزایش

میلی‌هانی است. اگر از این القاگر جریان ۴ آمپر بگذرد، انرژی ذخیره شده در آن چند ژول است؟ ۳۳- ضریب القاوری یک سیم‌لوله ۵

۳۴- در ساخت هسته پیچ‌ها و سیملوله‌ها، از مواد... استفاده می‌شود.

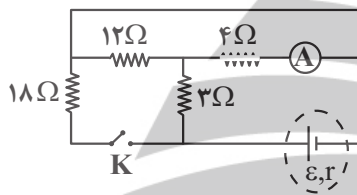
- (۱) پارامغناطیسی (۲) دیامغناطیسی (۳) فرومغناطیسی نرم (۴) فرومغناطیسی سخت

۳۵- معادله شار مغناطیسی عبوری از سیملوله‌ای به مقاومت $40\ \Omega$ که تعداد حلقه‌های آن 800 دور می‌باشد، در SI به صورت $\Phi = t^2 + 40t$

می‌باشد. در مدت زمان 2 ثانیه سوم، چند الکترون از هر مقطع مدار عبور می‌کند؟ ($e = 1.6 \times 10^{-19}\ \text{C}$)

- (۱) $1/25 \times 10^{21}$ (۲) $0/8 \times 10^{22}$ (۳) $1/25 \times 10^{22}$ (۴) $0/8 \times 10^{21}$

۳۶- در مدار زیر وقتی کلید باز است، آمپرسنج آرمانی $2/4\ \text{A}$ و وقتی کلید بسته است، $2/25\ \text{A}$ را نشان می‌دهد. با بستن کلید اختلاف پتانسیل



دو سر باتری چند ولت تغییر کرده است؟

- (۱) ۱۲ (۲) ۱/۲ (۳) ۱۸ (۴) ۱۹/۲

۳۷- چه تعداد از عبارتهای زیر نادرست است؟

(الف) قطب‌های مغناطیسی زمین بر قطب‌های جغرافیایی زمین کاملاً منطبق هستند.

(ب) جهت میدان مغناطیسی درون آهنربا از قطب N به قطب S است.

(پ) خاصیت مغناطیسی در وسط آهنربا کمتر از سایر نقاط است.

(ت) زمین را می‌توان مانند یک آهنربای بزرگ فرض کرد که قطب N آن تقریباً در شمال جغرافیایی قرار گرفته است.

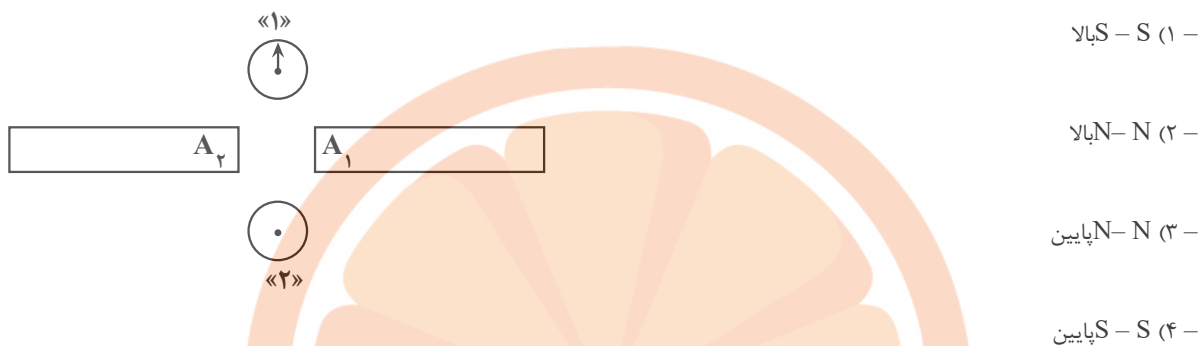
(ه) اگر دو قطعه فرومغناطیسی در اثر نیروی مغناطیسی یکدیگر را دفع کنند، حتماً هر دوی آن‌ها آهنربا بوده‌اند.

(و) اگر دو قطعه در اثر نیروی مغناطیسی یکدیگر را جذب کنند، قطعاً هر دوی آن‌ها آهنربا بوده‌اند.

- (۱) ۲ (۲) ۳ (۳) ۴ (۴) ۵

۳۸- مطابق شکل دو آهنربای مشابه در یک صفحه و مقابل هم قرار دارند. اگر عقربه قطب‌نما در نقطه «۱» رو به بالا باشد، قطب‌های A_1 و A_2 به

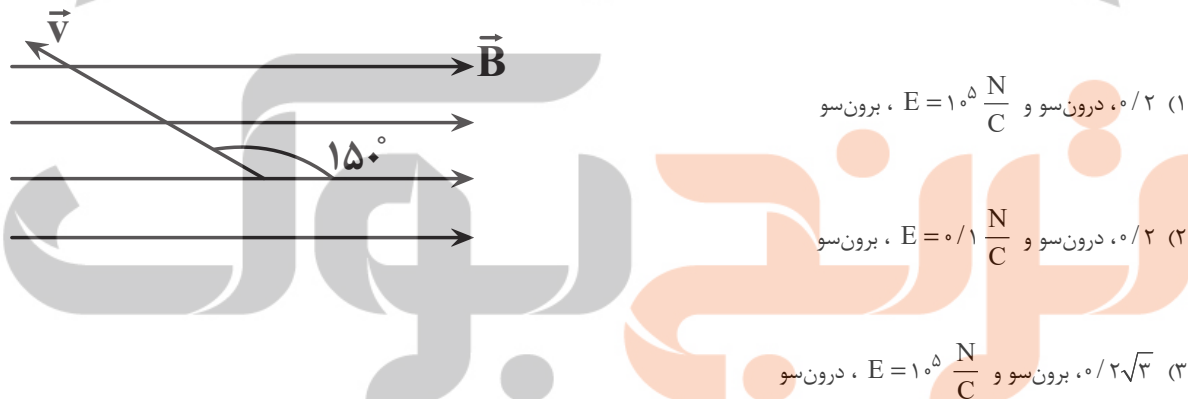
ترتیب قطب‌های و هستند و قطب‌نما در نقطه «۲» به سمت قرار خواهد گرفت.



۳۹- بار الکتریکی $q = +2\mu\text{C}$ در داخل میدان مغناطیسی یکنواخت $B = 0.1\text{T}$ مطابق شکل زیر با سرعت $v = 2 \times 10^5 \frac{\text{m}}{\text{s}}$ در حال حرکت در

جهت نشان داده شده است. اندازه نیروی مغناطیسی وارد بر این ذره چند نیوتون و در چه جهتی است و اگر بخواهیم با ایجاد یک میدان الکتریکی

یکنواخت از انحراف ذره جلوگیری کنیم، اندازه و جهت میدان الکتریکی کدام است؟ (از جرم ذره صرف‌نظر شود.)



تلاشی در مسیر موفقیت

۴۰- ذره‌ای با بار منفی، در اثر شتاب گرانش در حال سقوط است. نیروی مغناطیسی زمین، این ذره را به کدام جهت منحرف می‌کند؟ (شتاب گرانش

رو به پایین می‌باشد.)

(۴) جنوب

(۳) شمال

(۲) غرب

(۱) شرق

شیمی (۲)

هدف‌گذاری قبل از شروع هر درس در دفترچه سؤال

لطفاً قبل از شروع پاسخ‌گویی به سؤال‌های درس شیمی (۲)، هدف‌گذاری چند از ۱۰ خود را بنویسید:
از هر ۱۰ سؤال به چند سؤال می‌توانید پاسخ صحیح بدهید؟

هدف‌گذاری شما برای آزمون امروز چیست؟

هدف‌گذاری چند از ۱۰ برای آزمون امروز

۲۰ دقیقه

شیمی (۲)

در پی غذای سالم (از ابتدای آنتالپی همان محتوای انرژی است تا پایان فصل) / پوشاک، نیازی پایان‌ناپذیر (کل فصل ۳) صفحه‌های ۶۵ تا ۱۲۳

۴۱- عبارت کدام گزینه درست است؟

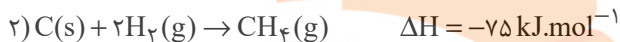
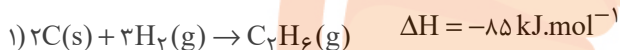
(۱) اگر واکنش $3O_2(g) \rightarrow 2O_3(g)$ گرماده باشد، مقدار $\Delta H(O=O)$ بیشتر از دو برابر $\Delta H(O-O)$ است.

(۲) علامت ΔH واکنش $H_2(g) \rightarrow 2H(g)$ مشابه علامت ΔH واکنش سوختن کامل یک مول اتان است.

(۳) با وارونه کردن معادله یک واکنش ترموشیمیایی، تغییری در مقدار و علامت ΔH واکنش موردنظر ایجاد نمی‌شود.

(۴) هیدروژن پراکسید را می‌توان با استفاده از واکنش مستقیم میان گازهای هیدروژن و اکسیژن تهیه کرد.

۴۲- با توجه به داده‌های زیر، آنتالپی پیوند C-C در اتان برحسب کیلوژول بر مول کدام است؟



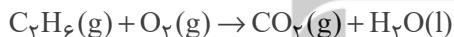
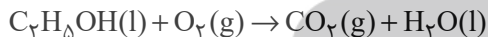
۳۰۵ (۴)

۲۶۲ (۳)

۳۲۹ (۲)

۳۴۸ (۱)

۴۳- اگر از سوختن کامل مقداری اتانول در دمای اتاق، ۸۸ گرم کربن دی‌اکسید و 1368 kJ انرژی تولید شود، ارزش سوختی اتانول برحسب کیلوژول بر گرم به تقریب کدام است و در صورت استفاده از اتان به‌جای اتانول، کربن دی‌اکسید حاصل از سوختن یک گرم ماده سوختنی، ... می‌شود. بازده واکنش‌ها را ۱۰۰٪ در نظر بگیرید. معادله واکنش‌ها موازنه نشده است؛ $(C=12, H=1, O=16: \text{g.mol}^{-1})$



۲۹/۷ (۴) - بیشتر

۱۷/۶ (۳) - بیشتر

۲۹/۷ (۲) - کمتر

۱۷/۶ (۱) - کمتر

۴۴- کدام گزینه نادرست است؟

(۱) افزودن پتاسیم کربنات به محلول آبی حاوی هیدروژن پراکسید تأثیری بر سرعت واکنش ندارد.

(۲) محلول پتاسیم پرمنگنات در واکنش با یک اسید آلی و در دمای بالا بنفش رنگ است.

(۳) هندوانه و گوجه فرنگی ماده آلی مشترکی دارند که بازدارندگی مؤثری در برابر ابتلا به سرطان برای بدن انسان به همراه دارد.

(۴) افزودن محلول بی‌رنگ سدیم کلرید به محلول بی‌رنگ نیترات باعث تشکیل رسوب سفید رنگ نقره کلرید می‌گردد.

۴۵- آلیاژی از آلومینیم و مس به جرم ۳۶ گرم را درون ۱۰ لیتر محلول ۰/۵ مولار HCl قرار می‌دهیم. اگر پس از گذشت ۵ دقیقه واکنش کامل شود و

در این بازه زمانی غلظت اسید اولیه $\frac{mol}{L}$ ۰/۳ کاهش پیدا کند، چند درصد جرمی آلیاژ را مس تشکیل داده و همچنین سرعت متوسط تولید گاز

هیدروژن در این بازه زمانی چند لیتر بر ساعت است؟ (تنها فلز فعال‌تر با اسید واکنش می‌دهد. چگالی گاز هیدروژن را $\frac{g}{L}$ ۰/۱ فرض کنید.

($H=1, Al=27, Cu=64: \text{g.mol}^{-1}$) (از تغییر حجم محلول در اثر خروج گاز صرف‌نظر شود).

۲۴۰ - ۲۵ (۴)

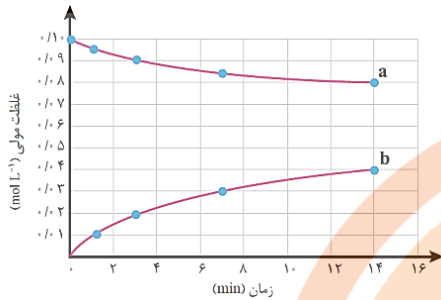
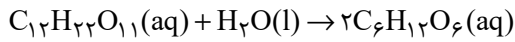
۳۶۰ - ۲۵ (۳)

۲۴۰ - ۵۰ (۲)

۳۶۰ - ۷۵ (۱)

محل انجام محاسبات

۴۶- واکنش تبدیل مالتوز به گلوکز در دمای ثابت، مطابق معادله زیر صورت می‌گیرد. اگر حجم محلول از شروع تا پایان انجام واکنش همچنان برابر با ۲ لیتر باشد و نمودار زیر تغییر غلظت مواد طی آن را نشان دهد، عبارت کدام گزینه نادرست است؟



(۱) منحنی a مربوط به مالتوز و منحنی b مربوط به گلوکز است.

(۲) تا پایان ثانیه ۸۴۰ام از شروع واکنش، سرعت متوسط مصرف مالتوز به تقریب برابر با

$$2 / 84 \times 10^{-3} \text{ mol بر دقیقه است.}$$

(۳) تا پایان دقیقه هفتم از شروع واکنش، سرعت متوسط تولید گلوکز به تقریب برابر با

$$8 / 6 \times 10^{-3} \text{ mol بر دقیقه است.}$$

(۴) تا پایان دقیقه سوم از شروع واکنش، سرعت متوسط مصرف مالتوز برحسب مول بر لیتر بر

دقیقه، ۴۵ برابر سرعت متوسط تولید گلوکز برحسب مول بر ثانیه است.

۴۷- چند مورد از عبارتهای زیر درست است؟

(آ) اتن و پلی‌اتن از نظر تعداد اتم‌های متصل به هر اتم کربن یکسان هستند.

(ب) نیروی بین مولکولی در هر پلیمری، به مراتب قوی‌تر از نیروی بین مولکولی در مونومرهای تشکیل‌دهنده آن است.

(پ) اختلاف تعداد پیوندهای کووالانسی در مونومرهای تشکیل‌دهنده دو پلیمر پلی‌استیرن و پلی‌سیانواتن برابر ۱۰ است.

(ت) در هر مولکول از استری که از آپکافت آن اتانول و بوتانویک اسید حاصل می‌شوند، ۱۸ پیوند کووالانسی وجود دارد.

۲ (۲)

۱ (۱)

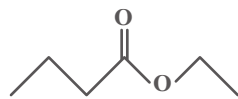
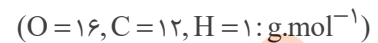
۴ (۴)

۳ (۳)

۴۸- ساختار پیوند - خط عامل بو و طعم خوش آناناس به‌صورت زیر است. نسبت جرم مولی الکل سازنده آن به جرم مولی کربوکسیلیک اسید

سازنده آن به تقریب کدام است و اگر بازده واکنش تشکیل یک مول از این استر ۸۰ درصد باشد، پس از انجام کامل واکنش بین مولکول‌های

سازنده این استر، به‌تقریب چند درصد جرمی مخلوط آلی ظرف واکنش را فراورده آلی تشکیل می‌دهد؟ (گزینه‌ها را از راست به چپ بخوانید)



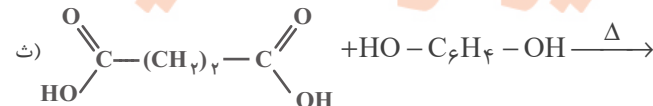
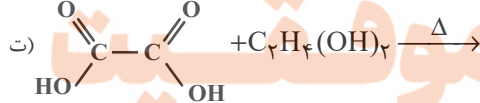
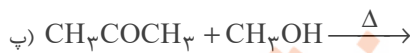
۸۱/۲ - ۰/۵۲ (۲)

۷۷/۶ - ۰/۵۲ (۱)

۸۱/۲ - ۱/۹۱ (۴)

۷۷/۶ - ۱/۹۱ (۳)

۴۹- چند مورد از واکنش‌های زیر منجر به تولید واحد تکرارشونده یک پلی‌استر می‌شود؟



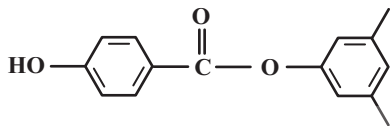
۳ (۴)

۲ (۳)

۱ (۲)

صفر (۱)

۵۰- با توجه به ساختار زیر چه تعداد از عبارتهای ذکر شده، صحیح است؟ ($O = ۱۶, C = ۱۲, H = ۱: g.mol^{-1}$)



آ) نسبت شمار کل پیوندهای اشتراکی در این ترکیب به شمار کل اتم‌های موجود در یک واحد فرمولی از آن، برابر ۱/۲۵ است.

ب) اگر این ترکیب، از واکنش دو ترکیب A (تنها دارای گروه هیدروکسیل) و B (دارای گروه کربوکسیل و هیدروکسیل) ایجاد شده باشد، تفاوت جرم مولی A و B برابر $۱۶ g.mol^{-1}$ است.

پ) مولکول حاوی گروه کربوکسیل تشکیل‌دهنده این ساختار، نسبت به ساده‌ترین کربوکسیلیک اسید، انحلال‌پذیری کمتری در آب دارد.

ت) این ترکیب همانند ویتامین K و برخلاف ویتامین A، ترکیبی آروماتیک محسوب می‌شود.

ث) نسبت تعداد اتم‌های کربن متصل به سه اتم هیدروژن به تعداد اتم‌های کربن که به هیچ اتم هیدروژنی متصل نیستند، در این ترکیب برابر ۰/۴ است.

۱) ۲

۳) ۴

۵۱- چه تعداد از عبارتهای زیر درست است؟

آ) در واکنش تجزیه نشاسته همانند واکنش تجزیه پلی‌استرها و پلی‌آمیدها، وجود آب ضروری است.

ب) نسبت تعداد اتم‌های هیدروژن استیرن به تعداد پیوندهای دوگانه در وینیل کلرید برابر ۴ است.

پ) کولار پلی‌آمیدی است که از فولاد هم حجم خود ۵ برابر مقاوم‌تر است.

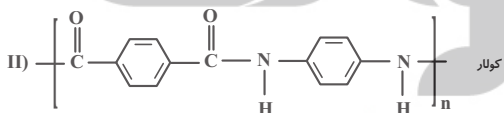
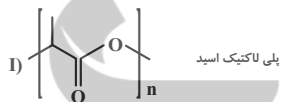
ت) برای تهیه پلی‌لاکتیک اسید، نشاسته موجود در فرآورده‌های کشاورزی را به لاکتیک اسید تبدیل می‌کنند.

ث) اگر یکی از اتم‌های هیدروژن موجود در اتن با گروه $-CN$ جایگزین شود، مونومری به‌دست می‌آید که واحد سازنده پلیمر مورد استفاده در سرنگ است.

۱) ۲

۳) ۴

۵۲- عبارت کدام گزینه نادرست است؟ ($O = ۱۶, N = ۱۴, C = ۱۲, H = ۱: g.mol^{-1}$)



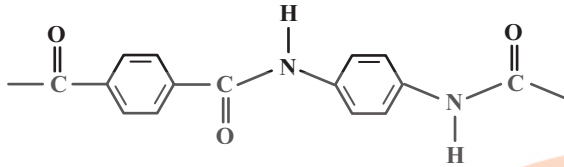
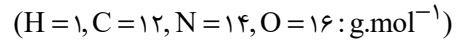
۱) ترکیب I زیست تخریب‌پذیر بوده و مونومر آن است.

۲) ترکیب II یکی از معروف‌ترین پلی‌آمیدها است که در تهیه تایلر اتومبیل، جلیقه ضدگلوله و ... کاربرد دارد.

۳) جرم مولی دی‌اسید سازنده ترکیب II به اندازه ۱۳۴ گرم بر مول از جرم مولی ساده‌ترین الکل بیش‌تر است.

۴) دی‌آمین سازنده ترکیب II، ۱۱ اتم بیش‌تر از ساده‌ترین آمین دارد.

۵۳- با توجه به ساختار زیر که بخشی از ساختار مولکول سازنده یک پلیمر را نشان می‌دهد، همه عبارتهای زیر درست‌اند؛ به‌جز:



(۱) تفاوت جرم مولی در مونومرهای سازنده آن برابر ۵۸ گرم بر مول می‌باشد.

(۲) هر دو مونومر سازنده آن می‌توانند بین مولکول‌های خود پیوند هیدروژنی تشکیل دهند.

(۳) فرمول مولکولی اسید دو عاملی سازنده این پلیمر $C_8H_6O_4$ می‌باشد.

(۴) تفاوت شمار اتم‌ها در دی‌آمین سازنده آن با استیرن برابر ۲ می‌باشد.

۵۴- چند مورد از عبارتهای زیر درست هستند؟

(آ) از آنجایی که در درشت مولکول‌ها نوع و تعداد اتم‌های سازنده بسیار زیاد است، نیروی بین مولکولی بین ذرات سازنده آن‌ها از دیگر ترکیبات مولکولی ساده بیشتر است.

(ب) پلی‌اتن یک جامد سفید رنگ سیر شده می‌باشد که از گرما دادن به گاز اتن در فشار بالا به دست می‌آید.

(پ) تمام ترکیبات آلی که در ساختار خود پیوند دوگانه کربن - کربن داشته باشند، می‌توانند در واکنش پلیمری شدن شرکت کنند.

(ت) در واکنش پلیمری شدن اتن، با افزایش نسبت مولی کاتالیزگر محتوی تیتانیوم به کاتالیزگر محتوی آلومینیوم، جرم مولی میانگین پلیمر حاصل نیز افزایش می‌یابد.

۴ (۴)

۳ (۳)

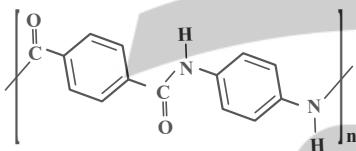
۲ (۲)

۱ (۱)

۵۵- کدام گزینه نادرست است؟

(۱) شمار پیوندهای اشتراکی در ساختار مونومرهای سازنده پلیمرهایی که در ساخت پتو و سرنگ به کار می‌روند، یکسان است.

(۲) فرمول شیمیایی واحد تکرار شونده پلیمر زیر $C_{14}H_{10}N_2O_2$ می‌باشد.



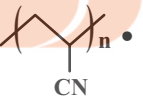
(۳) مونومرهای پلیمر داده شده دارای گروه‌های آمینی و کربوکسیل هستند.

(۴) بو و طعم خوش آناناس مربوط به استری با فرمول مولکولی $C_7H_8O_2$ است.

۵۶- چند مورد از مطالب ارائه شده برای ترکیبات و ساختارهای زیر درست است؟

• سلولز: همانند نشاسته، پلیمری طبیعی و زیست تخریب‌پذیر می‌باشد که از اتصال تعداد زیادی مولکول گلوکز به یکدیگر ساخته می‌شود.

• از چندین مونومری جامد (در دما و فشار اتاق) به دست آمده و همانند پلی‌آمیدهای ساختگی، زیست تخریب‌ناپذیر است.

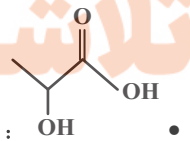


• استر موجود در موز است که الکل سازنده‌اش در آب نامحلول است.



تلاشی در مسیر موفقیت

• ساختار پلیمر ساخته شده از این مونومر، به صورت $(O-CH(CH_3)-C(=O))_n$ می‌باشد.



۴ (۴)

۱ (۳)

۲ (۲)

۳ (۱)

۵۷- کدام گزینه نادرست است؟

- (۱) از دیدگاه توسعه پایدار استفاده از پلیمرهای ماندگار به صرفه نیست.
 (۲) با افزایش شمار اتم‌های کربن در مولکول الکل‌ها، چربی دوستی آن‌ها کاهش می‌یابد.
 (۳) پلی‌اتن شاخه‌دار استحکام کمتری نسبت به پلی‌اتن بدون شاخه دارد.
 (۴) یکی از ویژگی‌های شیمیایی تفلون عدم واکنش‌پذیری آن با مواد شیمیایی است.

۵۸- کدام موارد از مطالب بیان شده زیر درست‌اند؟

- (آ) آهنک تجزیه شدن پلی‌استرها و پلی‌آمیدها به ساختار مونومرهای سازنده آن‌ها بستگی دارد.
 (ب) پلیمرهای حاصل از هیدروکربن‌های سیرنشده در طبیعت بسیار دشوارتر از برخی پلی‌آمیدها و پلی‌استرهای طبیعی تجزیه می‌شوند.
 (پ) از نگاه پیشرفت پایدار، تولید و استفاده از پلیمرهای با ساختاری مشابه آلکان‌ها الگوی مصرف مطلوبی است.
 (ت) ظروف پلاستیکی تهیه شده از پلی‌لاکتیک اسید ردپای کوچکتری در محیط زیست برجای می‌گذارند.

(۱) (آ) و (ت) (۲) (ب)، (پ) و (ت)

(۳) (آ)، (ب) و (ت) (۴) (ب) و (ت)

۵۹- همه عبارت‌های زیر درست هستند، به جز ...

- (۱) نسبت شمار جفت الکترون‌های پیوندی $C_{57}H_{110}O_6$ به شمار الکترون‌های ناپیوندی ۱، ۲- دی‌کلرو اتان کمتر از ۱۵ است.
 (۲) در واکنش تولید آمونیاک به روش هابر، سرعت متوسط مصرف هیدروژن ۱/۵ برابر سرعت متوسط تولید آمونیاک است.
 (۳) در نمودار «غلظت - زمان» واکنش $C_2H_4O_2(aq) + H_2O(l) \rightarrow 2C_2H_5O_2(aq)$ ، اندازه شیب نمودار $C_2H_4O_2$ برابر با اندازه شیب نمودار H_2O است.

(۴) در واکنش $N_2(g) + 3H_2(g) \rightarrow 2NH_3(g)$ ، سرعت متوسط واکنش با سرعت متوسط مصرف N_2 برابر است.

۶۰- کدام موارد از مطالب زیر صحیح می‌باشد؟

- (آ) کاتالیزگرهای حاوی Ti و Al می‌توانند به عنوان کاتالیزگر واکنش تولید پلی‌اتیلن به کار روند.
 (ب) پلیمرهایی مانند پلی‌سیانو اتن، کولار و پلی‌وینیل کلرید با استفاده از اتیلن ساخته می‌شوند و در طبیعت تجزیه نمی‌شوند.
 (پ) آلکان‌های راست زنجیر با هر تعداد کربن همواره از الکل‌های راست زنجیر سیر شده تک‌عاملی، انحلال‌پذیری کمتری دارند.
 (ت) تترا فلئوئورواتن گازی است که می‌توان از آن به‌عنوان سردکننده استفاده کرد و نام تجاری آن تفلون می‌باشد.

(۱) (آ) - (ب) (۲) (آ) - (پ)

(۳) (ت) - (پ) (۴) (ب) - (ت)

۴۰ دقیقه

ریاضی (۲)

مثلثات

(روابط تکمیلی بین نسبت‌های مثلثاتی، توابع مثلثاتی)

توابع نمایی و لگاریتمی / حد و پیوستگی / آمار و احتمال

(صفحه‌های ۷۷ تا ۱۶۶)

هدف‌گذاری قبل از شروع هر درس در دفترچه سؤال

لطفاً قبل از شروع پاسخ‌گویی به سؤال‌های درس ریاضی (۲)، هدف‌گذاری چند از ۱۰ خود را بنویسید:

از هر ۱۰ سؤال به چند سؤال می‌توانید پاسخ صحیح بدهید؟

عملکرد شما در آزمون قبل چند از ۱۰ بوده است؟

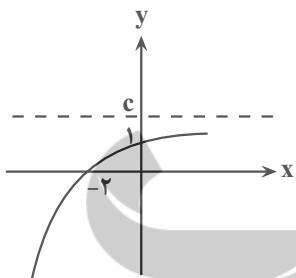
هدف‌گذاری شما برای آزمون امروز چیست؟

چند از ۱۰ آزمون قبل	هدف‌گذاری چند از ۱۰ برای آزمون امروز

۶۱- اگر $\frac{\pi}{2} < \alpha < \frac{7\pi}{8}$ و $\sin(\alpha + \frac{\pi}{8}) = \frac{1}{3}$ باشد، حاصل $\sin(\frac{37\pi}{8} + \alpha)$ کدام است؟

- (۱) $-\frac{1}{3}$ (۲) $\frac{2\sqrt{2}}{3}$ (۳) $-\frac{2\sqrt{2}}{3}$ (۴) $\frac{1}{3}$

۶۲- اگر نمودار تابع نمایی $f(x) = a + b(\sqrt{2})^{-x}$ به صورت روبرو باشد، حاصل abc کدام است؟



- (۱) -۴ (۲) -۲
(۳) ۲ (۴) ۴

۶۳- حاصل ضرب ریشه‌های معادله $(\log_5^x)(\log_5^{\frac{x}{5}}) = 6$ کدام است؟

تلاشی در مسیر موفقیت

- (۱) ۵ (۲) ۲۵ (۳) $\frac{1}{5}$ (۴) $\frac{1}{۲۵}$

۶۴- هرگاه $\lim_{x \rightarrow -1} \frac{ax^3 + ax^2 + x + 1}{(x+1)^2} = k$ باشد، مقدار k کدام است؟ ($k \in \mathbb{R}$)

- (۱) ۲ (۲) -۲ (۳) -۳ (۴) ۳

۶۵- تابع $f(x) = (-1)^{|x|} \sin\left(\frac{\pi}{2}\left[\frac{x}{2}\right]\right)$ در بازه $[-2, 3]$ در چند نقطه ناپیوسته است؟ $(\lfloor \cdot \rfloor, \lceil \cdot \rceil)$ ، نماد جزء صحیح است.

- (۱) ۳ (۲) ۴ (۳) ۵ (۴) ۶

۶۶- در مسابقه فوتبال برای انتخاب بازیکن جهت راه‌یابی به لیگ برتر، ناظر مسابقه ۲ نفر را مدنظر دارد. اگر احتمال راه‌یابی فرد اول $\frac{2}{3}$ و فرد دوم $\frac{3}{4}$

باشد، احتمال آن که حداقل یکی از آنها انتخاب شود، چه قدر است؟

- (۱) $\frac{11}{12}$ (۲) $\frac{31}{36}$ (۳) $\frac{29}{36}$ (۴) $\frac{7}{9}$

۶۷- با توجه به گزینه‌ها در مجموعه اعداد $\{x, 27, 32, 42, 35, 27, 41, 56\}$ اگر شاخص‌های میانگین و میانه برابر باشند، مقدار x کدام می‌تواند باشد؟

- (۱) ۴۴ (۲) ۳۶ (۳) نشدنی (۴) ۳۸

۶۸- در یک سری داده آماری، میانگین از ۲ برابر انحراف معیار ۸ واحد بیشتر است. اگر به هر داده ۱۰ واحد اضافه کنیم، ضریب تغییرات داده‌ها

۰/۱ کاهش می‌یابد. میانگین داده‌های اولیه کدام است؟

- (۱) ۲۰ (۲) ۲۸ (۳) ۳۲ (۴) ۳۶

۶۹- اگر به ده داده آماری داده‌های ۱۳ و ۱۵ را اضافه کنیم، میانگین ۰/۳ کاهش می‌یابد. نسبت میانگین داده‌های اولیه به میانگین داده‌های ثانویه

تلاشی در مسیر موفقیت

به صورت تقریبی کدام است؟

- (۱) $1/0.5$ (۲) $1/2$ (۳) $1/0.2$ (۴) $1/1$

۷۰- اگر انحراف از معیار داده‌های $2c+6$ و $3b+2$ و $2a+6$ و $3a-4$ برابر صفر باشد، مجموع چارک‌های اول و سوم داده‌های $12, c, a, 9, b$

کدام است؟

- (۱) $18/5$ (۲) $17/5$ (۳) $19/5$ (۴) ۲۰

ریاضی ۲ - آشنا

۷۱- در کدام بازه زیر، نمودار تابع $y = \cos x$ پایین نمودار تابع $y = \sin x$ است؟

- (۱) $(0, \pi)$ (۲) $(\frac{\pi}{2}, \frac{3\pi}{2})$ (۳) $(\frac{\pi}{4}, \frac{5\pi}{4})$ (۴) $(\pi, 2\pi)$

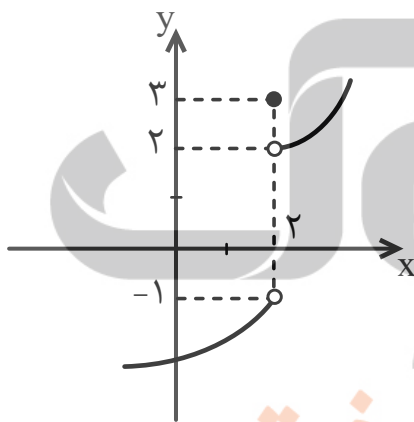
۷۲- طول نقطه برخورد کدام خط زیر با نمودار تابع $y = 3^x$ در بازه $(2, 1)$ قرار ندارد؟

- (۱) $y = 3/5$ (۲) $y = 2\sqrt{2}$ (۳) $y = 5$ (۴) $y = 3\sqrt{3}$

۷۳- نمودار توابع $f(x) = \log_{e/1} x$ و $g(x) = \log(x-2)$ یکدیگر را در کدام ناحیه محورهای مختصات قطع می کنند؟

- (۱) اول (۲) دوم (۳) سوم (۴) چهارم

۷۴- شکل زیر نمودار تابع f است. حاصل $\lim_{x \rightarrow 2^+} f(x) + \lim_{x \rightarrow 2^-} f(x) + f(2)$ کدام است؟



(۱) -۲

(۲) صفر

(۳) ۲

(۴) ۴

۷۵- تابع $f(x) = \begin{cases} 2x^2 - x - 1 & , x > 1 \\ ax - a + 3 & , x \leq 1 \end{cases}$ به ازای کدام مقدار a ، در نقطه $x = 1$ پیوسته است؟

(۱) فقط $\frac{1}{2}$

(۲) فقط ۲

(۳) هیچ مقدار a

(۴) هر مقدار a

تلاشی در مسیر موفقیت

۷۶- هر یک از اعداد طبیعی تک‌رقمی را روی یک کارت نوشته و کارت‌ها را در یک کیسه قرار می‌دهیم، سپس به تصادف و به‌طور هم‌زمان از این کیسه

سه کارت خارج می‌کنیم. اگر بدانیم مجموع عددهای نوشته شده روی این کارت‌ها زوج است، احتمال آنکه هر سه عدد زوج باشد، کدام است؟

$$(1) \frac{1}{21} \quad (2) \frac{1}{15} \quad (3) \frac{1}{8} \quad (4) \frac{1}{11}$$

۷۷- در پرتاب دو سکه و یک تاس احتمال آنکه حداقل یک سکه «رو» و عدد تاس مضرب سه باشد، کدام است؟

$$(1) \frac{1}{12} \quad (2) \frac{1}{6} \quad (3) \frac{1}{4} \quad (4) \frac{1}{3}$$

۷۸- در داده‌های ۲۵، ۲۰، ۲۱، ۲۶، ۱۲، ۱۴، ۱۵، ۲۴، ۲۰، ۱۶، ۱۴ و ۱۸ میانگین «داده‌های بزرگتر از چارک اول و کوچکتر از چارک سوم» کدام است؟

$$(1) 18/25 \quad (2) 18/33 \quad (3) 18/66 \quad (4) 18/75$$

۷۹- تحت کدام یک از شرایط زیر، میانه ۱۰ داده‌ی آماری متمایز تغییر نمی‌کند؟

(۱) مقدار ثابت و مثبت a را از کمترین داده کم و به بیشترین داده اضافه نماییم.

(۲) به تمام داده‌ها مقدار ثابت و مثبت a را اضافه نماییم.

(۳) مقدار ثابت و مثبت a را از هر کدام از داده‌ها کم کنیم.

(۴) تمام داده‌ها را در مقدار ثابت و مثبت a ضرب کنیم. ($a \neq 1$)

۸۰- کدام گزینه درست است؟

تلاشی در مسیر موفقیت

(۱) اگر داده دورافتاده داشته باشیم، برای محاسبه معیار گرایش به مرکز از میانگین استفاده می‌کنیم.

(۲) مجموع انحراف داده‌ها از میانه همواره صفر است.

(۳) واریانس شاخصی است که پراکندگی حول میانگین را بیشتر از حد انتظار نشان می‌دهد، به همین دلیل انحراف معیار شاخص پراکندگی بهتری است.

(۴) دامنه تغییرات با اضافه شدن داده‌های جدید هیچ‌گاه دچار تغییر نمی‌شود.

۱۰ دقیقه

زمین‌شناسی و سازه‌های
مهندسی / زمین‌شناسی و
سلامت / پویایی زمین
زمین‌شناسی ایران
(صفحه‌های ۵۹ تا ۱۱۷)

هدف‌گذاری قبل از شروع هر درس در دفترچه سؤال

لطفاً قبل از شروع پاسخ‌گویی به سؤال‌های درس زمین‌شناسی، هدف‌گذاری چند از ۱۰ خود را بنویسید:

از هر ۱۰ سؤال به چند سؤال می‌توانید پاسخ صحیح بدهید؟

عملکرد شما در آزمون قبل چند از ۱۰ بوده است؟

هدف‌گذاری شما برای آزمون امروز چیست؟

چند از ۱۰ آزمون قبل	هدف‌گذاری چند از ۱۰ برای آزمون امروز

۸۱- شیب و امتداد لایه شکل مقابل را به کدام شکل باید نمایش داد؟

(۱) N۳۵E - ۴۵NE

(۲) N۵۵E - ۴۵NE

(۳) N۳۵E - ۴۵NW

(۴) N۵۵E - ۴۵NW



۸۲- کدام عبارت در ارتباط با نکات ساختمان‌سازی صحیح است؟

اندکی شیب برای زمین محل سازه نیاز است.

تعداد پنجره برخلاف تعداد درهای ساختمان، هر چه بیشتر باشد بهتر است.

چوب برای ساخت سازه مناسب‌تر از آجر با اسکلت بتنی است.

چهارچوب داخلی اسکلت‌های فلزی بهتر هست برای استحکام بیشتر، به‌صورت عمود به‌هم متصل شوند.

۸۳- X حدوداً در کدام زمان ایجاد شده است؟

اواسط کامبرین

اوایل پرمین

اواخر تریاس

اوایل کربنیفر

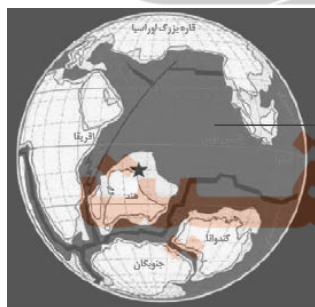
۸۴- کدام مورد در نقشه‌های زمین‌شناسی داده نمی‌شود؟

جنس سنگ‌های درونی زمین

موقعیت کانسارها

روابط سنی سنگ‌ها

(۴) چین‌خوردگی‌ها و شکستگی‌ها



۸۵- در کدام یک از پهنه‌های زمین‌ساختی ایران، سنگ‌های اصلی از نوع رسوبی نمی‌باشد؟

ایران مرکزی

کپه‌داغ و البرز

شرق و جنوب شرق

ارومیه - دختر

۸۶- هریک از بیماری‌های «کم‌خونی، تغییر شکل استخوان‌ها، سیلیکوسیس» به ترتیب ناشی از تغییرات کدام عوامل در بدن است؟

افزایش روی - افزایش کادمیم - افزایش آرسنیک

کاهش روی - افزایش فلوتور - افزایش آرسنیک

افزایش روی - افزایش کادمیم - غبار سیلیسی

کاهش روی - افزایش فلوتور - غبار سیلیسی

۸۷- بیشتر آتش‌فشان‌های جوان ایران در امتداد کدام پهنه زمین‌ساختی قرار دارند؟

شرق و جنوب‌شرق

سهند- بزمان

سهند-سیرجان

زاگرس

۸۸- کدام یک از گزینه‌های زیر صحیح نیست؟

گسل کپه‌داغ گسل راستالغز اصلی و در امتداد شمال‌غربی - جنوب‌شرقی می‌باشد.

گسل تبریز گسل راستالغز اصلی و در امتداد جنوب شرقی - شمال غربی می‌باشد.

گسل خزر گسل راندگی اصلی و در امتداد شمالی - جنوبی می‌باشد.

گسل تروند گسل راستالغز اصلی و در امتداد شمال شرقی - جنوب غربی می‌باشد.

۸۹- چند مورد از موارد داده شده، جاهای خالی موجود در عبارت زیر را به درستی کامل می‌کنند؟

«آشفشان در قرار دارد.»

الف بزمان - «امتداد نوار ارومیه - دختر»

ب دماوند- پهنه زمین‌ساختی البرز

پ سیلان- شرق آشفشان سهند

ت تفتان- مرحله فومرولی

چهار مورد

سه مورد

دو مورد

یک مورد

موردنظر صحیح بیان شده است؟ ۹۰- در کدام یک از گزینه‌های زیر مفهوم

ژئوپارک باداب‌سورت ساری به ثبت جهانی رسیده است.

دره ستارگان جزو اکوتوریسم کشورمان محسوب می‌شود.

کوه‌های مریخی چابهار جزو میراث زمین‌شناختی کشورمان می‌باشد.

دانش آموز عزیز، سوالات عمومی از شماره ۱۰۱ شروع می شود.
دقت نمایید تا گزینه ها را به درستی وارد پاسخبرگ کنید.



دَفْتَرِ چَه سَوْال ؟

عمومی یازدهم ریاضی و تجربی

۲۸ اردیبهشت ۱۴۰۳

تعداد سوالات و زمان پاسخ گویی آزمون

نام درس	تعداد سؤال	شماره سؤال	وقت پیشنهادی
فارسی (۲)	۱۰	۱۰۱-۱۱۰	۱۰
عربی، (بان قرآن (۲)	۱۰	۱۱۱-۱۲۰	۱۰
دین و زندگی (۲)	۱۰	۱۲۱-۱۳۰	۱۰
(بان انگلیسی (۲)	۲۰	۱۳۱-۱۵۰	۱۵
جمع دروس عمومی	۵۰	—	۴۵

طراحان

مهدی آسمی، حنیف افخمی ستوده، عبدالحمید رزاقی، مهدی رمضی، مهدی شصتی کریمی، مریم شمیرانی، الهام محمدی	فارسی (۲)
ابوطالب درانی، آرمن ساعدپناه، امیدرضا عاشقی، افشین کریمان فرد	عربی، (بان قرآن (۲)
محسن بیاتی، محمد رضایی بقا، یاسین ساعدی، فردین سماقی، عباس سید شهبستی	دین و زندگی (۲)
رحمت الله استبری، محسن رحیمی، میلاد رحیمی دهگلان، عقیل محمدی روش	(بان انگلیسی (۲)

گزینشگران و ویراستاران

نام درس	مسئول درسی و گزینشگر	گروه ویراستاری	گروه مستندسازی
فارسی (۲)	الهام محمدی	مرتضی منشاری، محسن اصغری	الناز معتمدی
عربی، (بان قرآن (۲)	آرمن ساعدپناه	درویشعلی ابراهیمی، آیدین مصطفی زاده	لیلا ایزدی
دین و زندگی (۲)	یاسین ساعدی	امیرمهدی افشار	محمدصدرا پنجه پور
(بان انگلیسی (۲)	عقیل محمدی روش	سعید آقچه لو، فاطمه نقدی	سوگند بیگلری

گروه فنی و تولید

مدیر گروه	الهام محمدی
مسئول دفترچه	معصومه شاعری
مستندسازی و مطابقت با مصوبات	مدیر: محیا اصغری، مسئول دفترچه: فریبا رئوفی
صفحه آرا	سحر ایروانی
ناظر چاپ	حمید عباسی

گروه آزمون

بنیاد علمی آموزشی قلمچی (وقف عام)

آدرس دفتر مرکزی: خیابان انقلاب- بین صبا و فلسطین- پلاک ۹۲۳ - تلفن چهار رقمی: ۰۲۱-۶۶۶۳

فارسی (۲)

۱۰ دقیقه

فارسی (۲)

مباحث نیم سال دوم

درس ۱۰ تا ۱۸

صفحه ۸۵ تا ۱۵۵

۱۰۱- معنای واژه در کدام گزینه نادرست آمده است؟

(۱) که در جوشن عشقید که از کرب و بلایید: زره

(۲) فلک باخت از سهم آن جنگ، رنگ: ترس

(۳) اشارت او را امام ساختند و راه بتافتند: راهنما

(۴) آن یکی ممد حیات است/ این یک مفرح ذات: شاد شده

۱۰۲- در کدام گزینه واژه انتخاب شده از نظر املائی صحیح است؟

(۱) آقای معلم (لحجه) - لهجه) غلیظ شیرازی داشت و اصرار داشت که خیلی خیلی عامیانه صحبت کند.

(۲) عقیدت ارباب مودت بدین سیرت ستوده در موالات تو صافی تر گردد و (صقت - ثقت) دوستان به کرم عهد تو بیفزاید.

(۳) شما نظریات و خواسته‌های مرا به گوش طلاب جوان (حوضه - حوزه) برسانید.

(۴) ابلیس در لباس (خوالیگری - خالیگری) چالاک خورش‌های حیوانی به ضحاک می‌خوراند و خوی بد را در او می‌پرورد.

۱۰۳- در گروه‌های اسمی کدام گزینه، فقط صفت بیانی به کار رفته است؟

(۱) «چند دانشمند»، «مطلب شنیدنی»، «زیباترین منظره»، «گرفتاران اعتیاد»

(۲) «غنچه خندان»، «فرشی زیبا»، «رفتار پسندیده»، «قدرت جسمانی»

(۳) «انگشتر طلا»، «در آهنی»، «هزار دانشجو»، «رفتار بچگانه»

(۴) «عروسک سخن‌گو»، «عجب صدایی»، «مرد راننده»، «کودک خوشحال»

۱۰۴- با توجه به جدول زیر، کدام گزینه درست است؟

واژه	وضعیت واژه
(۱) فتراک	الف) با همان معنای قدیم به حیات خود ادامه می‌دهد.
(۲) شادی	ب) معنای پیشین را از دست داده و معنای جدید گرفته است.
(۳) یخچال	ج) هم معنای قدیم را حفظ کرده و هم معنای جدید گرفته است.
(۴) کثیف	د) از فهرست واژگان حذف شده

ب: ۴ (۴)

د: ۳ (۳)

ج: ۲ (۲)

ا: ۱ (۱)

۱۰۵- در کدام گزینه، نقش دستوری مشخص شده، نادرست بیان شده است؟

(۱) بدان محضر اژدها ناگزیبرگواهی نوشتند بَرنا و پیر (قید)

(۲) ای مرغ سحر، عشق ز پروانه بیاموز

کان سوخته را جان شد و آواز نیامد (مضاف‌الیه)(۳) ای کعبه به داغ ماتمت نیلی‌پوش

وز تشنگی‌ات فرات در جوش و خروش (منادا)

(۴) بزن زخم، ایین مرهم عاشق استکه بی‌زخم مردن، غم عاشق است (نهاد)

۱۰۶- در کدام گزینه زمینه حماسه متفاوت است؟

- | | |
|------------------------------------|-----------------------------|
| (۱) پدربود در ناز و خز و پرند | مرا برده سیمرغ بر کوه هند |
| (۲) تو شاهی و گر اژدهاپیکری | بباید زدن داستنان، آوری |
| (۳) به شمشیر از ایشان دو بهره بکشت | چو چوپان چنان دید بنمود پشت |
| (۴) جهان شد بر آن دیو بچه سیاه | ز بخت سیامک وز آن پایگاه |

۱۰۷- کدام گزینه از مفهوم عبارت «جای مجادله نیست؛ چنان باید که همگان، استخلاص یاران را مهم تر از تخلص خود شناسند و

حالی صواب آن باشد که جمله به طریق تعاون قوتی کنید تا دام از جای بگیریم که رهائش ما در آن باشد.» دریافت

نمی شود؟

- | | |
|--------------------|-----------------------------|
| (۱) اتفاق و همدلی | (۲) فداکاری و همکاری |
| (۳) تعاون و همیاری | (۴) دام انداختن و کمین کردن |

۱۰۸- مفهوم کدام بیت، با سایر ابیات متفاوت است؟

- | | |
|---|------------------------------------|
| (۱) فرض است فرمان بردن از حکم جلودار | گر تیغ بارد گو ببارد نیست دشوار |
| (۲) باید به مژگان رُفت گرد از طور سینین | باید به سینه رُفت زین جا تا فلسطین |
| (۳) یعنی کلیم آهنگ جان سامری کرد | ای یاوران باید ولی را یآوری کرد |
| (۴) حکم جلودار است بر هامون بتازید | هامون اگر دریا شود از خون، بتازید |

۱۰۹- مفهوم کنایه مصراع دوم «یکی بی زیان مرد آهنگرم/ ز شاه آتش آید همی بر سرم» در کدام گزینه آمده است؟

- | | |
|-----------------------------|---------------------------|
| (۱) مورد ظلم و ستم واقع شدن | (۲) خشمگین شدن پادشاه |
| (۳) نفرت و بیزاری از پادشاه | (۴) مورد شکنجه قرار گرفتن |

۱۱۰- مفهوم کدام گزینه با عبارت «اگر به داده خدا خرسند نمودی، ردای من به بازار گرو نرفتی.» قرابت ندارد؟

- | | |
|---------------------------------------|---------------------------------------|
| (۱) هرکه گردید اسیر شکم از بنده نفس | زار و زار است اگر عمرو و اگر عنتره شد |
| (۲) هرکه این آتش و این دیگ ببیند داند | کشته خنجر بیداد تو غیر از بره شد |
| (۳) گفت سلمان که اگر داشت قناعت مهمان | به نمک ساختمی، نی به گرو مطهره شد |
| (۴) شوربخت آن که پی بره شود طعمه گرگ | نیکبخت آن که دلش خوش به پیاز و تره شد |

۱۰ دقیقه

عربی، زبان قرآن (۲)

مباحث نیمسال دوم

درس ۴ تا ۷

صفحة ۴۹ تا ۱۰۱

عربی، زبان قرآن (۲)

۱۱۱- عَيْنُ الْخَطَا فِي التَّرْجَمَةِ عَمَّا أُشِيرَ إِلَيْهِ بِخَطِّ:

(۱) ﴿إِنَّ اللَّهَ لَا يَهْدِي مَنْ هُوَ كَاذِبٌ كَفَّارٌ﴾ (بسیار کافر)

(۲) العمیل لأداء دوره يُضْطَرُّ إِلَى الْكَذْبِ! (ناگزیر می شود)

(۳) اشترى أبي لأمي أساور فضية من السوق! (گردن بندها)

(۴) امتلأ بحيرة من الماء بعد نزول المطر! (پر شد)

۱۱۲- عَيْنُ الصَّحِيحِ عَنِ الْمَفْرَدَاتِ:

(۱) «إثم = ذنب» / «مخبوء ≠ خفي»

(۲) «قلّة = كثرة» / «لین ≠ خشونة»

(۳) «مقال = كلام» / «فشل ≠ نجح»

(۴) «آخر = ندب» / «تنزل ≠ ترفع»

■ عَيْنُ الْأَصْحَحِ وَالْأَدَقِّ فِي الْجَوَابِ لِلتَّرْجَمَةِ أَوْ الْمَفْهُومِ مِنَ الْعَرَبِيَّةِ (۱۱۷ - ۱۱۳):

۱۱۳- ﴿وَ اذْكُرُوا نِعْمَتَ اللَّهِ عَلَيْكُمْ إِذْ كُنْتُمْ أَعْدَاءً فَأَلَّفَ بَيْنَ قُلُوبِكُمْ فَأَصْبَحْتُمْ بِنِعْمَتِهِ إِخْوَانًا﴾

(۱) نعمت خدا را بر خود یاد کنید آن گاه که دشمن بودید، پس دل هایتان را پیوند داد و به [واسطه] نعمتش برادر شدید!

(۲) نعمات الله را بر خود به یاد آورید هنگامی که دشمن هم شدید، پس دل هایتان را پیوند داد و با نعمتش برادر هم گشتید!

(۳) نعمت الله را بر خود یاد کنید آن گاه که دشمن شدید، پس بین شما الفت ایجاد کرد و به [واسطه] نعمتش برادر گشتید!

(۴) نعمت خدا را بر خود یاد کنید آن گاه که دشمن بودید، پس بین دل هایتان الفتی ایجاد شد و به [واسطه] نعمتش برادر می شدید!

۱۱۴- «عَرَفْنَا مَعْجَمًا يَحْتَوِي الْمَفْرَدَاتِ الَّتِي لَهَا دَوْرٌ مَهْمٌ فِي التَّبَادُلَاتِ التَّقَايَةِ!»:

(۱) دانشنامه‌ای را شناختیم که واژه‌هایی را در برمی گیرد که نقشی مهم در تبادل فرهنگی دارند!

(۲) دانشنامه‌ای را به ما بشناسان که واژگانش نقش مهمی در تبادل فرهنگ داشتند!

(۳) فرهنگ لغتی را شناختیم که کلماتی را در بر داشت که نقش مهمی در تبدلات فرهنگی ایفا می کردند!

(۴) فرهنگ لغتی را به ما بشناسان که واژگانی را در بر دارد که نقش مهمی در تبدلات فرهنگی دارند!

۱۱۵- عَيْنُ الْخَطَا:

(۱) كَانَ التَّلْمِيذُ قَدْ كَتَبَ تَكَالِيفَهُ فِي الصَّفِّ: دَانَشْ آمُوز تَكَالِيفِش رَا دَر كَلَّاسِ نُوْشْتَه بُوْدَا!

(۲) وَجَدْنَا بَرْنَامَجًا يُسَاعِدُنَا فِي تَعَلُّمِ الدَّرُوسِ: بَرْنَامَه‌ای رَا یَافْتِیمْ کِه مَا رَا دَر یَا دِگِیرِی دَرُوسِ کَمکِ مِی کَرْدِنْدَا!

(۳) كَانَ لِي فَرَسٌ جَمِيلٌ فِي أَيَّامِ طُفُولَتِي: دَر رُوزَه‌ای کُودکِی ام اَسبِی زِیبا دَاشْتِم!

(۴) ﴿انْفِقُوا مِمَّا رَزَقْنَاكُمْ﴾: اَز رُوزِی هَایِی کِه بَه شَمَا دَاده‌ایم، اِنْفَاقِ کُنِیدَا!

۱۱۶- عین الخطأ:

- (۱) ﴿وَكَانَ يَأْمُرُ أَهْلَهُ بِالصَّلَاةِ وَالزَّكَاةِ﴾ و خانواده‌اش را به نماز و زکات فرمان می‌داد!
- (۲) ﴿أَنْزَلَ مِنَ السَّمَاءِ مَاءً فَتُصْبِحُ الْأَرْضُ مُخْضَرَّةً﴾ از آسمان آبی را فرو فرستاد و زمین سرسبز می‌شود!
- (۳) ﴿لَقَدْ كَانَ فِي يُوسُفَ وَإِخْوَتِهِ آيَاتٌ لِلْمُتَلَكِّينَ﴾ در [داستان] یوسف و برادرانش نشانه‌هایی برای فکراست!
- (۴) ﴿أَوْ لَمْ يَعْلَمُوا أَنَّ اللَّهَ يَبْسُطُ الرِّزْقَ لِمَنْ يَشَاءُ﴾ آیا ندانسته‌اند که خدا روزی را برای هرکس بخواهد می‌گستراند؟!

۱۱۷- عین غیر المناسِب للمفهوم:

- (۱) البعيد عن العين بعيد عن القلب: همه مهري ز ناديدن بکاھد!
 - (۲) خير الأمور أوسطها: اندازه نگه دار که اندازه نکوست!
 - (۳) تجرى الرياح بما لا تشتهي السفن: لا يمرُّ الدهر وفق إرادة الإنسان!
 - (۴) الخير في ما وقع: در کار خير حاجت هيچ استخاره نيست!
- عین المناسِب للجواب عن الأسئلة التالية (۱۲۰ - ۱۱۸):

۱۱۸- عین الخطأ عما أشير إليه بخط:

- (۱) ﴿الْحَمْدُ لِلَّهِ رَبِّ الْعَالَمِينَ﴾: الجار و المجرور
- (۲) ﴿لَمْ تَقُولُوا مَا لَا تَفْعَلُونَ﴾: معادل للماضى المنفى
- (۳) ﴿لِنَسْتَمِعْ إِلَى الْكَلَامِ الْحَقِّ﴾: لام الأمر
- (۴) ﴿أَوْ لَمْ يَعْلَمُوا أَنَّ اللَّهَ يَبْسُطُ الرِّزْقَ لِمَنْ يَشَاءُ﴾: معادل للماضى المنفى

۱۱۹- عین المفعول غير موصوف:

- (۱) أبى يحب أن يشتري السيارة الإيرانية!
- (۲) مَنْ يُسَاعِدِ الْفُقَرَاءَ الْمُحْرَمِينَ فَيُشَاهِدِ نَتِيجَةَ عَمَلِهِ!

(۳) أحبُّ لاعبةً تلعب في أيِّ مباراة فريقيها!

(۴) شاهدنا سنجاباً و هو يقفز من شجرة إلى شجرة!

۱۲۰- عین ما فيه من الأفعال الناقصة:

- (۱) صیرنا التلاميذ معلّمين بتعليم أساليب التدريس!
- (۲) تلك المؤسسة تتكوّن من أربعة أجزاء داخلية!
- (۳) أُلستُ صديقكم؟ قالوا إنك صديقنا الحنون!
- (۴) سارت قافلة الزوّار نحو مدينة كربلاء المقدّسة!

۱۰ دقیقه

دین و زندگی (۲)

دین و زندگی (۲)

مباحث نیم‌سال دوم

درس ۷ تا ۱۲

صفحة ۸۵ تا ۱۵۸

۱۲۱- خداوند متعال با کدام نعمت، راه رسیدن به رستگاری را برای انسان‌ها هموار ساخته است و در حدیث نبوی چه کسانی «پدران امت» معرفی شده‌اند؟

- (۱) با نزول قرآن- پیامبر اسلام (ص) و امام علی (ع)
 (۲) با نزول قرآن- پیامبران و امامان معصوم (ع)
 (۳) با وجود امامان- پیامبران و امامان معصوم (ع)
 (۴) با وجود امامان- پیامبر اسلام (ص) و امام علی (ع)

۱۲۲- کدام عبارت، وظیفه مردم برای به دست آوردن احکام رویدادهای جدید در زمان غیبت را بیان نموده است؟

- (۱) «الم تر الى الذين يزعمون انهم بما انزل اليك و ما انزل من قبلك...»
 (۲) «و ما كان المؤمنون لينفروا كافة فلولا نفر من كل فرقة منهم طائفة ليتفقهوا في الدين...»
 (۳) «ذَلِكَ بِأَنَّ اللَّهَ لَمْ يَكُ مُعَيَّرًا نِعْمَةً أَنْعَمَهَا عَلَي قَوْمٍ حَتَّى يُغَيَّرُوا...»
 (۴) «و اما الحوادث الواقعة فارجعوا فيها الى رواة حديثنا فانهم حجتي عليكم و انا حجة الله عليهم»

۱۲۳- «به جایگاه برجسته رسیدن و راهنمای مردم شدن افراد فاقد معیارهای اسلامی در اندیشه و عمل و اخلاق» بازتاب چه امری است؟

- (۱) تلاش حاکمان وقت برای منزوی کردن شخصیت‌های اصیل اسلامی به خصوص اهل بیت و ارائه الگوهای نامناسب
 (۲) ورود جاهلیت به شکل جدید در زندگی اجتماعی مسلمانان
 (۳) عدم حضور اصحاب پیامبر (ص) به دلیل فوت یا شهادت
 (۴) تبدیل جامعه مؤمن و فداکار عصر پیامبر (ص) به جامعه راحت طلب

۱۲۴- در آیات شریفه «و الَّذِينَ كَسَبُوا السَّيِّئَاتِ جَزَاءُ سَيِّئَةٍ بَمِثْلِهَا...» و «لَّذِينَ أَحْسَنُوا الْحَسَنَى وَ زِيَادَةٌ...» به ترتیب، سخن از دعوت کدام نفس است و پیام حدیث علوی «انه ليس لانفسكم ثمنُ اَلَا الْجَنَّةُ فلا تبيعوها اَلَّا بها» چیست؟

- (۱) نفس لوامه- نفس اماره- توجه به عظمت خداوند و تلاش برای بندگی او
 (۲) نفس مطمئنه- نفس لوامه- شناخت ارزش خود و نفروختن خویش به بهای اندک
 (۳) نفس اماره- نفس لوامه- شناخت ارزش خود و نفروختن خویش به بهای اندک
 (۴) نفس اماره- نفس لوامه- توجه به عظمت خداوند و تلاش برای بندگی او

۱۲۵- امامان (ع) در راستای تحقق کدام‌یک از اقداماتشان در راستای مرجعیت دینی، به دور از انزوا و گوشه‌گیری و با حضور سازنده و فعال درباره همه مسائل اظهار نظر کردند؟

- (۱) تعلیم و تفسیر قرآن کریم
 (۲) حفظ سخنان و سیره پیامبر (ص)
 (۳) معرفی خویش به عنوان امام بر حق
 (۴) تبیین معارف اسلامی متناسب با نیازهای نو

۱۲۶- «اولین قدم برای تشکیل خانواده پس از تعیین هدف ازدواج» و «پشتوانه آرامش میان همسران» و «حساس‌ترین دوره عمر انسان» به ترتیب، در کدام گزینه آمده است؟

- (۱) ازدواج- مودت و رحمت- دوره کودکی تا ورود به دوره بلوغ
 (۲) ازدواج- اصالت خانوادگی- دوره کودکی تا ورود به دوره بلوغ
 (۳) انتخاب همسر خوب- اصالت خانوادگی- دوره گذر از کودکی و ورود به بزرگسالی و پذیرش مسئولیت زندگی
 (۴) انتخاب همسر خوب- مودت و رحمت- دوره گذر از کودکی و ورود به بزرگسالی و پذیرش مسئولیت زندگی

۱۲۷- تلاش ائمه اطهار (ع) در راستای مرجعیت دینی، علاوه بر جلوگیری از پوشیده ماندن حقیقت اسلام برای جویندگان آن، چه نتایج دیگری داشت؟

- (۱) برقراری عدالت و تشکیل حکومتی بر مبنای اسلام راستین
 (۲) معرفی روش زندگی امامان (ع) به نسل‌های آینده
 (۳) دستیابی به تعلیمات اصیل اسلام و تشخیص راه حق از باطل
 (۴) باقی ماندن تفکر اسلام راستین و سست شدن بنای ظلم و جور حاکمان

۱۲۸- هدف مشترکی که خداوند در میان زنان و مردان قرار داده تا با بهره‌گیری از ویژگی‌های فطری به آن برسند، کدام مورد است و طبق کلام معصومین (ع)، شکل‌گیری کدام صفت در وجود انسان، مانع بسیاری از زشتی‌ها می‌شود؟

- (۱) قرب الهی و بهشت جاوید- عزت
 (۲) رسیدن به بالاترین درجات بهشت- عزت
 (۳) رسیدن به بالاترین درجات بهشت- غیرت
 (۴) قرب الهی و بهشت جاوید- غیرت

۱۲۹- با وجود این که امکان تفقه در دین برای همه مؤمنین فراهم نیست، وظیفه مؤمنان در کدام مورد بیان شده و ثمره انجام صحیح آن برای جامعه چیست؟

- (۱) «و ما كان المؤمنون لينفروا كافة»- «لعلهم يحذرون»
 (۲) «و ما كان المؤمنون لينفروا كافة»- «ليتفقهوا في الدين»
 (۳) «فلولا نفر من كل فرقة منهم طائفة»- «لعلهم يحذرون»
 (۴) «فلولا نفر من كل فرقة منهم طائفة»- «ليتفقهوا في الدين»

۱۳۰- هر یک از موارد زیر، با کدام‌یک از اهداف ازدواج مرتبط است؟

- برطرف شدن بی‌قراری و ناآرامی در کنار همسر
 (۱) انس با همسر- رشد اخلاقی و معنوی
 (۲) پاسخ به نیاز جنسی- رشد اخلاقی و معنوی
 (۳) انس با همسر- پاسخ به نیاز جنسی
 (۴) پاسخ به نیاز جنسی- انس با همسر

زبان انگلیسی (۲)

۱۵ دقیقه

زبان انگلیسی (۲)

مباحث نیمسال دوم

درس ۲ و ۳

صفحه‌های ۶۱ تا ۱۰۷

PART A: Grammar and Vocabulary**Directions:** Choose the word or phrase (1), (2), (3), or (4) that best completes each sentence. Then mark the correct choice on your answer sheet.

- 131- My neighbor asked me to look . . . her sick mother while she was away.
1) after 2) into 3) at 4) for
- 132- The company will act to protect its financial interests in the country if the war
1) began 2) will begin 3) begin 4) begins
- 133- I . . . reading the novel yet, so I'll keep it a little longer.
1) hasn't finished 2) haven't finished 3) won't finish 4) didn't finish
- 134- Different . . . , like ADHD, anxiety, or depression, can make life hard for some people. Learning about these problems helps us understand and support them better.
1) products 2) disorders 3) carpets 4) customs
- 135- Some scientists found that even looking at art can provide enjoyment and increase creative thinking
1) relationships 2) risks 3) skills 4) results
- 136- You should visit your dentist at . . . two times a year or once every eight months.
1) part 2) all 3) last 4) least

PART B: Reading Comprehension**Directions:** Read the following passage and answer the questions by choosing the best choice (1), (2), (3), or (4). Then mark the correct choice on your answer sheet.

Sleep deprivation happens when you don't get enough sleep over a period of time. It can make you feel tired during the day, have trouble paying attention, and feel moody. If you keep not getting enough sleep, it can lead to some serious health problems. For example, it can make you more likely to gain weight, get sick, and have trouble with your memory and feelings. It can also make you more likely to have accidents because you're not as quick to react. To avoid sleep deprivation, it's important to have a regular bedtime, make your bedroom a comfortable place to sleep, and try to relax before going to bed. If you're having a hard time sleeping, it's a good idea to talk to a doctor to see if there's a bigger problem. Getting enough sleep is really important for your health and how you feel every day.

- 137- What is the best title for the passage?
1) The Importance of a Good Night's Sleep 2) Having a Regular Bedtime
3) The Effects of Enough Sleep 4) Serious Health Problems
- 138- Which of the following is NOT true about sleep deprivation?
1) It can cause health problems.
2) It can make you smarter.
3) It can increase the risk of accidents and injuries.
4) It can make you feel worse physically and mentally.
- 139- The underlined word "avoid" is closest in meaning to
1) increase 2) prevent 3) seek 4) identify
- 140- Which of the following questions is NOT answered in the passage?
1) What are the effects of not getting enough sleep?
2) How can one avoid sleep deprivation?
3) What problems are bigger than sleep deprivation?
4) When does sleep deprivation happen?

تبدیل به تست نمونه سؤال‌های امتحانی

PART C: Grammar and Vocabulary

Directions: Choose the word or phrase (1), (2), (3), or (4) that best completes each sentence. Then mark the correct choice on your answer sheet.

- 141- I . . . spending time with my family since I was a child.
 1) have always loved 2) always love 3) always was loving 4) always has loved
- 142- After many years, he finally **decided to quit . . . for the sake of his health.**
 1) has smoked 2) smoked 3) smoke 4) smoking
- 143- She felt lucky . . . such **supportive friends who stood by her during tough times.**
 1) have 2) to have 3) having 4) has had
- 144- Taking a walk in the park is always a simple . . . **that brings me peace after a busy day.**
 1) cancer 2) medicine 3) pleasure 4) mission
- 145- She was . . . of her **rude behavior and promised to do better in the future.**
 1) ashamed 2) social 3) unhealthy 4) early
- 146- The kind-hearted actions of their parents have . . . **the children to always be helpful and caring towards others in need.**
 1) depended 2) reflected 3) frightened 4) influenced

PART D: Reading Comprehension

Directions: Read the following passage and answer the questions by choosing the best choice (1), (2), (3), or (4). Then mark the correct choice on your answer sheet.

Art is like a special kind of magic that happens on paper and canvas. Artists are like wizards who use colors, shapes, and their imagination to create amazing pictures that can tell stories without using any words. Sometimes these pictures are bright and cheerful paintings that make us feel happy, and other times they are sculptures that look like they could come to life, making the world around us more colorful and exciting.

When you look at a painting or drawing, it's like stepping into a different world where anything is possible. You can also become an artist and create your own art using crayons, pencils, or even your fingers. Just let your imagination run wild and see where it takes you.

Art is not just about making things look pretty; it's a way to express yourself and share your feelings with others. So, grab some paper, pick up your favorite colors, and start creating your own magical masterpieces today. Let your creativity flow and discover the wonders of the art world as you paint, draw, and sculpt your way to endless possibilities and fun adventures.

- 147- What is the main idea of the passage?
 1) Bright and cheerful paintings that make us feel happy
 2) Art is a form of creative expression that uses colors and shapes.
 3) The world is a more colorful and exciting place because of art.
 4) Children can use crayons and pencils to create their own art paintings.
- 148- Which of the following is NOT true according to the passage?
 1) Artists use colors, shapes, and imagination to create art.
 2) Paintings can cause different emotions and feelings in people.
 3) Art is only about making things look beautiful and attractive.
 4) We can imagine ourselves in a different world when looking at art.
- 149- The underlined word "it" refers to
 1) your imagination 2) art 3) painting 4) world
- 150- The passage answers all of the following questions EXCEPT
 1) What tools can you use to create your art?
 2) How can art make the world more colorful and exciting?
 3) Why do artists use colors, shapes, and imagination in their work?
 4) When was the first piece of art created in history?